

---

令和4年度 第3回

桐蔭学園 中等教育学校 学力検査問題

社 会

令和4年2月5日 施行

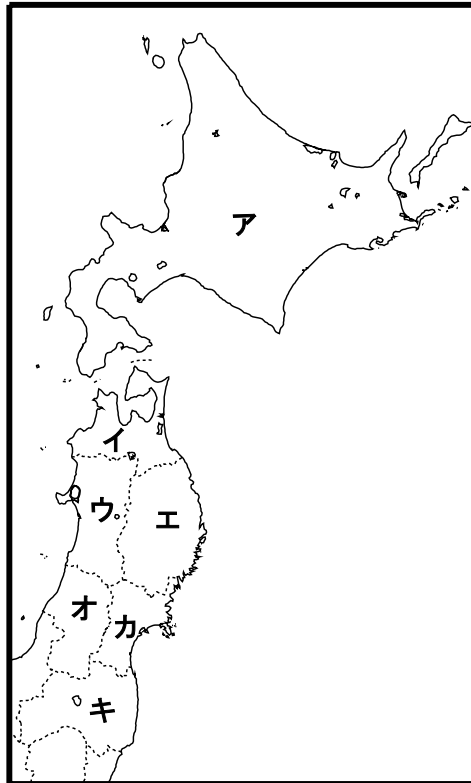
---

注意事項

1. 試験開始の合図があるまで、この冊子の中を見てはいけません。
2. 机の上には、えんぴつ・シャープペンシル・消しゴム・受験票・座席券・時計以外のものを置いてはいけません。受験生どうしの貸し借りもできません。また、机の中には何も入れてはいけません。
3. けいたい電話は、必ず電源を切って、かばんの中に入れておいてください。
4. 問題冊子の印刷が見えづらかったり、ページが不足したりしている場合、また、えんぴつなどを落としたり、体の調子が悪くなったりした時は、だまって手をあげてください。
5. 問題冊子のあいているところは自由に利用してかまいませんが、どのページも切りはなしてはいけません。
6. 記述問題において、小学校で習わない漢字はひらがなで書いてもかまいません。
7. 問題は13ページまであります。
8. 問題冊子は持ち帰ってください。

1 東北地方・北海道地方に関する、あとの問に答えなさい。

**問1** 東北地方と北海道地方の一道六県のうち、道県名と道県庁所在地名が異なるものが3つあります。3つの道県名とその位置をそれぞれ答えなさい。解答の順序は問いません。また、道県名は「道」または「県」をつけて漢字またはひらがなで答えなさい。位置は次の図中**ア～キ**から選び、記号で答えなさい。



**問2** 2021年に開かれた東京オリンピックで、男女マラソン競技が行われた都市は、**問1**の3つの道県庁所在地のいずれかでした。あてはまる都市名を漢字またはひらがなで答えなさい。

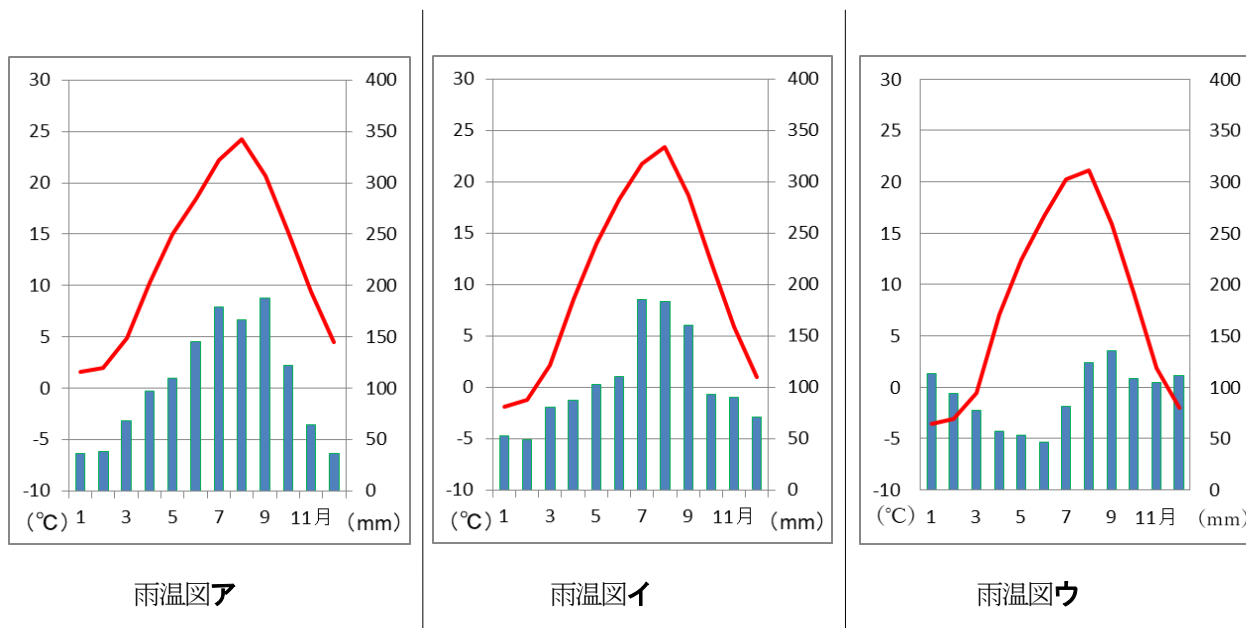
**問3** 次の文の（ ）にあてはまる災害名を漢字またはひらがなで答えなさい。

「2021年の東京オリンピックでは、2011年に起こった（ ）からの復興を世界に示したいとの願いから、東北地方でも野球・ソフトボール・サッカーの各競技が行われました。」

**問4** 東京ではなく、**問2**の都市でマラソンが行われた理由として、夏の平均気温が東京より低いことがあげられていました。**問2**の都市の夏の平均気温が東京より低い理由として最も適切なものを、次の**ア～エ**のうちから1つ選び、記号で答えなさい。

- ア** 高原に位置しており、標高が高いため。
- イ** 東京より緯度が高いため。
- ウ** すぐ近くを黒潮が流れているため。
- エ** やませと呼ばれる風が吹くため。

**問5** 次の雨温図**ア～ウ**は、**問1**の3つの道県庁所在地のいずれかのもので、**問2**の都市にあてはまるグラフはどれかと聞かれたアキラさんは、雨温図**ウ**のグラフが正解だと考えました。そう判断した理由が述べられたあとの文を読み、(1)～(4)の間に答えなさい。



『理科年表』より

「雨温図**ウ**のグラフが正解だと考えた第一の理由は、**問2**の都市は気温が( **A** )いことです。また第二の理由として、**問2**の都市は( **B** )側に位置しているので、北西からの( **C** )の影響を受け、( **D** )の降水量が多いこともあります。」

(1) ( **A** )にあてはまる語句を答えなさい。

(2) ( B ) にあてはまるものを、次のカ～ケから1つ選び、記号で答えなさい。

カ 太平洋      キ <sup>せとうちかい</sup>瀬戸内海      ク オホーツク海      ケ 日本海

(3) ( C ) にあてはまる風の名前を漢字またはひらがなで答えなさい。

(4) ( D ) にあてはまる季節を漢字1字で答えなさい。

問6 次の表のうち、①～③は問1の3つの道県名のいずれかを示しています。また、X・Yは米の生産量、生乳の生産量のいずれかを示しています。この表に関するあとの(1)・(2)の間に答えなさい。

|   | 道県庁所在地<br>の人口<br>(人) | X<br>(トン) | Y<br>(トン) |
|---|----------------------|-----------|-----------|
| ① | 288,470              | 212,862   | 278,700   |
| ② | 1,064,060            | 110,526   | 377,000   |
| ③ | 1,959,313            | 4,153,714 | 594,400   |

『日本国勢図会 2021/22』より

(1) 米の生産量はX・Yのどちらか、記号で答えなさい。

(2) ②の道県名を、「道」または「県」をつけて漢字またはひらがなで答えなさい。

2

次の(A)～(F)の文章を読み、あとの間に答えなさい。

- (A) 縄文時代の終わりころ、大陸や朝鮮半島から移り住んだ人びとによって米作りの技術が伝わりました。①登呂遺跡や吉野ヶ里遺跡などから、米作りにより②人々の生活が変化していったようすを知ることができます。人々は農作業に適した低地に住むようになり、収穫した稲の穂を高床倉庫にたくわえました。

問1 下線部①について、遺跡の位置として正しい組み合わせのものを、次のア～エの中から1つ選び、記号で答えなさい。

- ア 登呂遺跡—静岡県      吉野ヶ里遺跡—佐賀県  
イ 登呂遺跡—佐賀県      吉野ヶ里遺跡—静岡県  
ウ 登呂遺跡—青森県      吉野ヶ里遺跡—福岡県  
エ 登呂遺跡—福岡県      吉野ヶ里遺跡—青森県

問2 下線部②について誤っているものを、次のア～エの中から1つ選び、記号で答えなさい。

- ア 米作りの技術とともに青銅器も伝わっており、銅鐸の表面には稲の脱穀のようすや、高床倉庫がえがかれているものも見られる。  
イ 米作りが本格化すると、むらには人々をまとめる指導者があらわれ、土地や水をめぐる他のむらとの争いが起こったときには、戦いの指導をするようになった。  
ウ 吉野ヶ里遺跡では、集落の周りを堀や柵で囲んだ環濠集落や、物見やぐらと思われる建物の跡が見つかっている。  
エ 登呂遺跡では、他のむらとの争いで使用された「ワカタケル大王」と刻まれた鉄剣が発見された。

(B) 8世紀の中ごろ、人々は伝染病やききんに苦しみ、地方では貴族の反乱が起こるなど世の中が乱れました。この時期に政治をおこなった③聖武天皇は仏教の力で人々の不安をはずめ、国を治めようと考えました。このため全国に国分寺と国分尼寺を建て、都には国分寺・国分尼寺の中心となる④東大寺を建て、大仏を作ることを決めました。

問3 下線部③について、日本に正しい仏教を広めるために、中国から日本にわたり唐招提寺を開いた僧(図1の人物)の名前を漢字またはひらがなで答えなさい。

図1



「唐招提寺ホームページ」より

問4 下線部④について、以下の文中の(ア)・(イ)にあてはまる語句をそれぞれ漢字3字で答えなさい。

東大寺大仏殿の近くには(ア)と呼ばれる宝物庫があり、聖武天皇の持ち物などが収められている。この建物は柱を使用せず三角形の木材を井の字型に組んで壁とする(イ)と呼ばれる建築様式が特徴である。

(C) 14世紀の終わり、足利義満は南北朝を統一して内乱を終わらせ、力をつけてきた各地の守護大名を従えて将軍の権威を高めました。また、中国との貿易をおこない、<sup>ぼくだい</sup>莫大な利益を得た義満は京都の北山に金閣を建て、その力を人々に知らしめるとともに⑤文化や芸術を保護しました。15世紀の終わりには、義満の孫の義政が東山に⑥銀閣を建てました。

問5 下線部⑤について、室町時代の文化について述べているものを、次のア～エの中から2つ選び、記号で答えなさい。

- ア 墨の濃淡<sup>のうたん</sup>で表現する水墨画を雪舟が大成した。
- イ 近松門左衛門が人形浄瑠璃<sup>じょうるり</sup>の『曾根崎心中<sup>そねざきしんじゆう</sup>』を書いた。
- ウ 能が観阿弥・世阿弥<sup>ぜあみ</sup>の親子によって大成された。
- エ 清少納言が随筆<sup>ずいひつ</sup>の『枕草子』を書いた。

問6 下線部⑥について、床の間や違い棚<sup>ちがひだな</sup>などがあり、畳<sup>たたみ</sup>をしきつめ、障子やふすまなどで仕切った建築様式を何といいますか。漢字3字で答えなさい。

(D) 1854年と1858年の条約により、鎖国<sup>きこく</sup>の状態が終わり外国との貿易が増えると、日本国内の物価が上がり人々の生活が苦しくなりました。また、武士の中には外国勢力を追放する動きが起きました。長州藩<sup>はん</sup>は下関に砲台<sup>ほうだい</sup>を作り、海峡<sup>かいきょう</sup>を通過する外国船を攻撃しましたが、4か国の連合艦隊<sup>かんたい</sup>から攻撃<sup>こうげき</sup>を受け、戦いに敗れました。その後、長州藩の(⑦)や、薩摩藩<sup>さつま</sup>の(⑧)、西郷隆盛らは外国勢力を追放することが不可能と知り、新しい政府をつくる運動を始めました。

問7 文中の(⑦)・(⑧)にあてはまる語句の組み合わせとして正しいものを、次のア～エの中から1つ選び、記号で答えなさい。

- ア ⑦—坂本龍馬<sup>りょうま</sup>      ⑧—伊藤博文<sup>ひろぶみ</sup>
- イ ⑦—伊藤博文      ⑧—坂本龍馬
- ウ ⑦—木戸孝允<sup>たかよし</sup>      ⑧—大久保利通
- エ ⑦—大久保利通      ⑧—木戸孝允

(E) 1880年代、日本の産業は製糸業<sup>ぼうせき</sup>・紡績業<sup>せんい</sup>などの繊維工業を中心とする軽工業が急速に発展しました。1909年には生糸の輸出額が世界一になりました。また、政府は日清戦争<sup>にっしん</sup>で

得た賠償金の一部を使い、⑨北九州に八幡製鉄所を作りました。これにより鉄の生産がのび、日露戦争のころには兵器の生産にも力を入れ、重工業が発展しました。

**問8** 問題文中の「日清戦争」・「日露戦争」について説明した以下の文章(1)・(2)について、その正誤の組み合わせとして正しいものを、次のア～エの中から1つ選び、記号で答えなさい。

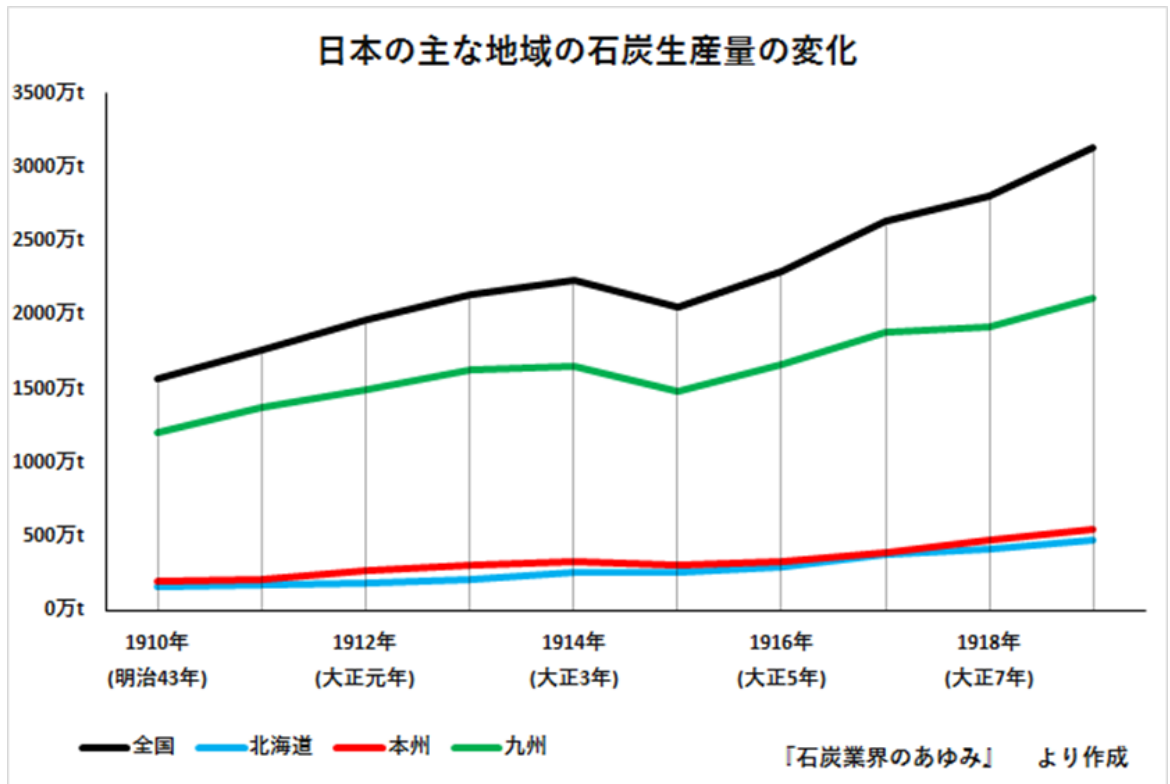
- (1) 日清戦争で日本は勝利し、講和条約で日本は台湾・ハワイを領土とした。
- (2) 日露戦争で東郷平八郎の指揮する艦隊が、日本海海戦でロシアの艦隊を破った。

- ア (1) 一正 (2) 一正  
イ (1) 一正 (2) 一誤  
ウ (1) 一誤 (2) 一正  
エ (1) 一誤 (2) 一誤

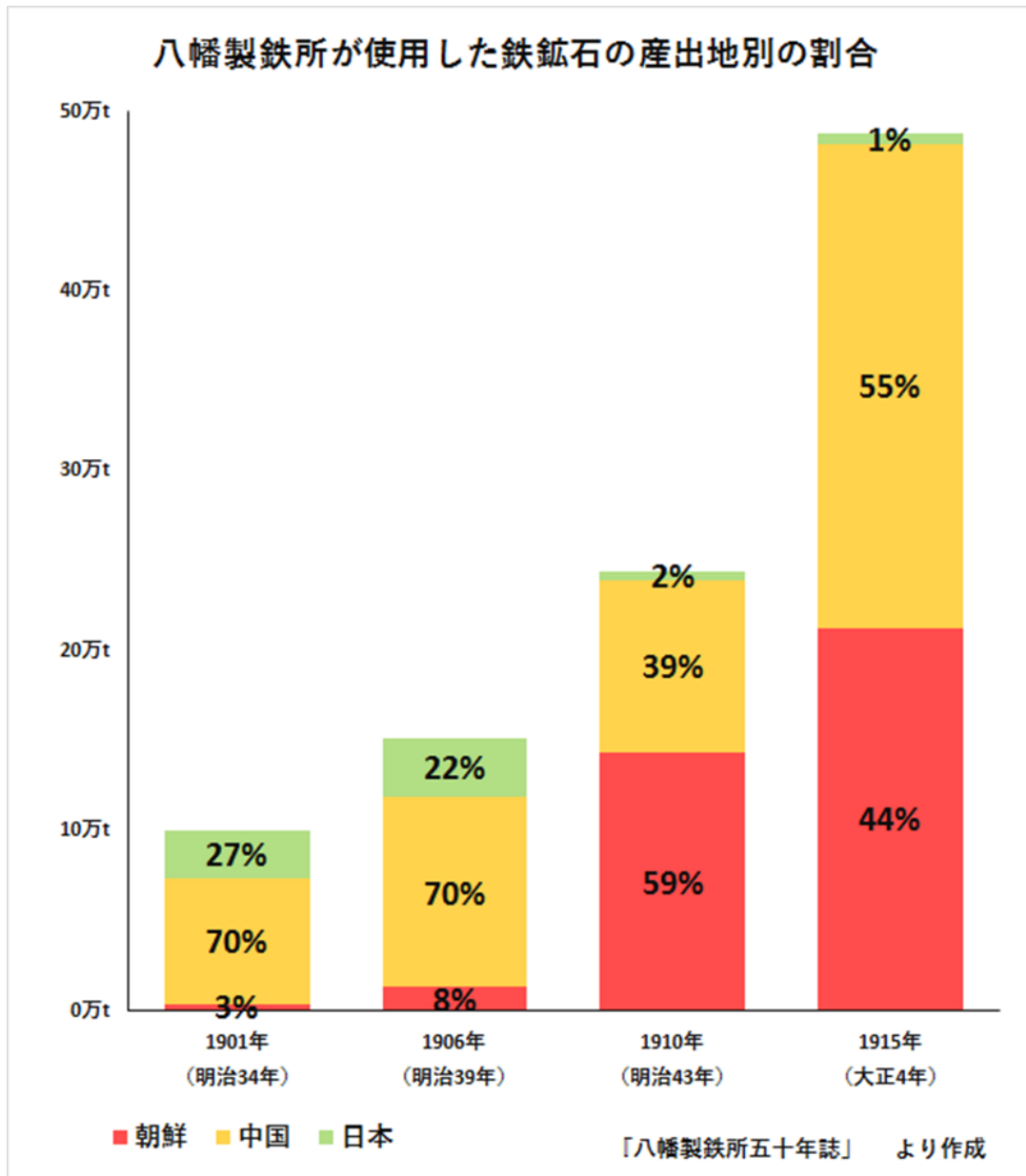
**問9** 下線部⑨について、なぜ八幡製鉄所は北九州につくられたのか、その理由を次の資料1・2を踏まえて、「鉄鉱石」・「石炭」という2つの語句を必ず用いて答えなさい。



# 資料1



資料2



(F) 1950年代半ばころから日本では高度経済成長が始まりました。1956年の経済白書では「もはや戦後ではない」との表現もされました。同年12月には⑩国際連合への加入が認められ国際社会へ復帰しました。

その後、日本はアメリカとの結びつきを強めながら産業を急速に発展させました。⑪1964年にアジアで初となる東京オリンピック・パラリンピックが国立競技場を主競技場として開催され、日本が戦後約20年で復興を果たし、経済発展をしたことを世界に示しました。

問10 下線部⑩について、国際連合の本部が置かれている都市として正しいものを、次のア～エの中から1つ選び、記号で答えなさい。

- ア ニューヨーク
- イ ジュネーブ
- ウ <sup>ベキン</sup>北京
- エ ロンドン

問11 下線部⑪について、1964年に起きたできごととして正しいものを、次のア～エの中から1つ選び、記号で答えなさい。

- ア 日中平和友好条約が結ばれた。
- イ <sup>おきなわ</sup>沖縄が日本に返還された。
- ウ 東海道新幹線が開通した。
- エ 日本万国博覧会が<sup>かいさい</sup>開催された。

3

去年行われた衆議院議員総選挙について、先生と生徒が教室で話をしています。2人の会話文を読んで、あとの間に答えなさい。

先生：①2021年には衆議院議員総選挙が行われましたね。

生徒：よく覚えています。②コロナ禍でも選挙が行われたことを考えると、国民にとって選挙はとても大切なことだと感じました。

先生：私たちが選挙に参加して、私たちの代表を選ぶということは、③政治に私たちの意見を反映させるということになります。

生徒：国会議員が私たちの声を反映させて物事を決めていくことで、よりよい社会の実現に近づくということですね。

先生：国会議員は国会で議論をして、最終的には④多数決で私たちの生活に関わる予算や私たちの権利を守る法律を決めていきます。私たちは私たちのために働いてくれる人を選ばなくてはなりません。なお、国会で決まったことを実行する機関は⑤内閣です。

生徒：有名なリンカーン（リンカン）の言葉「人民の、人民による、人民のための政治」が頭に浮かびました。

先生：素晴らしいですね。その言葉は民主主義の理念をあらわす言葉です。政治は他人事ではなく、誰のための政治なのかを常に意識して、私たちは過ごす必要があります。

生徒：私も選挙権を得る18歳になるまでに、国民の一人として、社会に目を向け、自分自身の考えを持てるようにしていきたいと思います。

**問1** 下線部①に起こったできごとA～Dについて、古い順番に正しく並べたものを、次のア～エの中から1つ選び、記号で答えなさい。

- A 衆議院議員総選挙
- B 自民党総裁選挙
- C 特別国会
- D 東京オリンピック・パラリンピック

- ア D→A→C→B
- イ D→B→A→C
- ウ B→A→D→C
- エ B→D→A→C

問2 下線部②に関連して、以下の問に答えなさい。

(1) コロナの対策として、都市封鎖<sup>ようき</sup>を行なっている国もあります。都市封鎖のことを一般的にカタカナで何と呼ぶか、答えなさい。

(2) 政府はフランスで行われているような都市封鎖は日本では行えないと説明していますが、それはなぜですか。最も適切なものを次のア～オの中から2つ選び、記号で答えなさい。

- ア 多くの国民が反対をしているから。
- イ 国会で都市封鎖に反対をする決定がされたから。
- ウ 日本国憲法によって、国民の権利や自由が守られているから。
- エ 日本国憲法には、「都市封鎖ができない」と書かれているから。
- オ 都市封鎖をするための具体的な法律がないから。

問3 下線部③に最も関連が深い日本国憲法の三大原則の1つを答えなさい。

問4 下線部④の問題点を次のア～エの中からすべて選び、記号で答えなさい。

- ア 少数者の意見が反映されないことがある。
- イ 話し合いで物事を決定するよりも、時間がかかる。
- ウ 多くの人の賛同を得ることができない。
- エ 必ず過半数の賛成が得られるとは限らない。

問5 下線部⑤に関連して、以下の問に答えなさい。

(1) 現在の内閣総理大臣の氏名を漢字で答えなさい。

(2) 国会議員の中から内閣総理大臣が選ばれる理由として、最も関連が深い日本国憲法の条文を次のア～エの中から1つ選び、記号で答えなさい。(条文は現代仮名遣いに直しています。)

ア 第3条 天皇の国事に関する行為には、内閣の助言と承認を必要とし、内閣が、その責任を負う。

イ 第53条 内閣は、国会の臨時会の召集を決定することができる。いずれかの議院の総議員の4分の1以上の要求があれば、内閣は、その召集を決定しなければならない。

ウ 第66条 内閣は、行政権の行使について、国会に対し連帯して責任を負う。

エ 第99条 天皇又は摂政及び国務大臣、国会議員、裁判官その他の公務員は、この憲法を尊重し擁護する義務を負う。

(3) 現在、政権を担当する政党をすべて書きなさい。

問題は以上です。

(令和4年度)

# 社会解答用紙

(第3回入試)

| 教室番号 |  |  | 座席番号 |  | 受験番号 |  |  | 氏名 |  |
|------|--|--|------|--|------|--|--|----|--|
|      |  |  |      |  |      |  |  |    |  |

|     |
|-----|
| ※合計 |
|-----|

注意

- (イ) ※のらんには何も書かないこと。
- (ロ) 答えは、数字やア、イ、ウなどの記号を紛らわしくないようにきちんと書くこと。
- (ハ) 答えの文字数には、句読点を含みます。

1

| 問1  |    |     |    |
|-----|----|-----|----|
| 道県名 | 位置 | 道県名 | 位置 |
|     |    |     |    |
| 道県名 | 位置 |     |    |
|     |    |     |    |

|     |
|-----|
| ※合計 |
|-----|

| 問2 | 問3 |
|----|----|
| 市  |    |

| 問4 | 問5  | 問5  | 問5  |
|----|-----|-----|-----|
|    | (1) | (2) | (3) |
|    | い   |     |     |

| 問5  | 問6  | 問6  |
|-----|-----|-----|
| (4) | (1) | (2) |
|     |     |     |

2

| 問1 | 問2 | 問3 |
|----|----|----|
|    |    |    |

|     |
|-----|
| ※合計 |
|-----|

| 問4 | 問4 | 問5 |
|----|----|----|
| ア  | イ  |    |
|    |    |    |

| 問6 | 問7 | 問8 |
|----|----|----|
|    |    |    |

| 問9 | 問10 |  | 問11 |
|----|-----|--|-----|
|    |     |  |     |
|    |     |  |     |

3

| 問1 | 問2  | 問2  | 問3 |
|----|-----|-----|----|
|    | (1) | (2) |    |
|    |     |     |    |

|     |
|-----|
| ※合計 |
|-----|

| 問4 | 問5  | 問5  |
|----|-----|-----|
|    | (1) | (2) |
|    |     |     |

| 問5 | (3) |
|----|-----|
|    |     |